

MATEMÁTICA

Nome _____

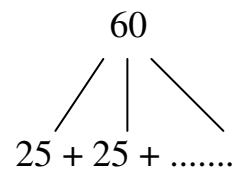
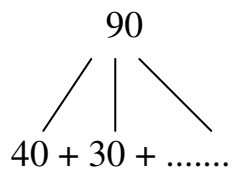
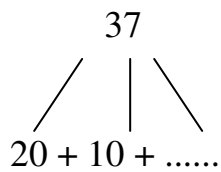
Data _____

1. Completa as sequências:

15 - 20 - 25 - - - - - - - 60 - -

10 - - - 40 - - - 70 - -

2. Completa :



3. Escreve por extenso:

63 _____

78 _____

99 _____

4. Completa com os numerais ordinais:

..... décimo

8° _____

..... terceiro

1° _____

..... quinto

2° _____

5. Coloca os sinais <, > ou =

3035

9087

72 17

55 85

57 60

8050

49 49

26 30

6. Faz a leitura dos números:

45 = Quarenta e cinco unidades = 4 dezenas + 5 unidades

19 = _____

62 = _____

90 = _____

7. Coloca por ordem crescente os seguintes números: 75, 15, 82, 37, 90, 29, 8, 10

Problemas:

1. Um castanheiro tinha 87 folhas. Já caíram 15. Quantas folhas há ainda no castanheiro?

Indicação

Operação

R _____

2. Os meninos da escola , apanharam num dia 34 folhas para fazerem um trabalho e no dia seguinte apanharam 5 dezenas. Quantas folhas apanharam nos dois dias?

Indicação

Operação

R _____

3. Do castanheiro da escola caíram 9 dezenas e meia de castanhas, mas os meninos já apanharam 43. Quantas castanhas ainda estão por apanhar?

Indicação

Operação

R _____