


Nome \_\_\_\_\_ Data \_\_\_\_/\_\_\_\_/\_\_\_\_

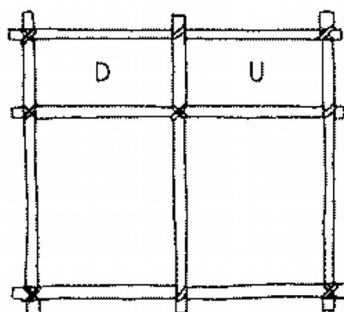
Pinta as borboletas, agrupa-as em dezenas e responde.



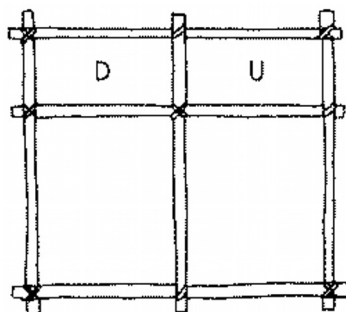

- Quantas dezenas formaste?

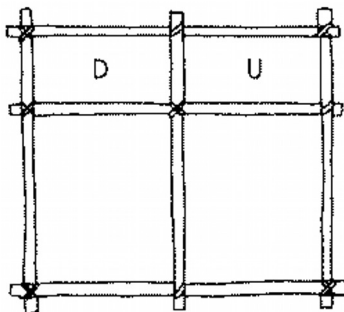

\_\_\_\_\_

- Escreve o número formado.



- Completa os quadros de acordo com as figuras.





- Completa.

	<i>d</i>	<i>u</i>
Uma dezena		
Duas dezenas		
Quinze unidades		
Cinco unidades		

- Escreve o número formado por...

	Número	Leitura do número
1 dezena e 3 unidades		
1 dezena e 7 unidades		
1 dezena e 9 unidades		
Duas dezenas		